

**Министерство образования и науки Республики Татарстан
ВСЕРОССИЙСКАЯ ОЛИМПИАДА ШКОЛЬНИКОВ ПО ОСНОВАМ
БЕЗОПАСНОСТИ ЖИЗНЕДЕЯТЕЛЬНОСТИ
(МУНИЦИПАЛЬНЫЙ ЭТАП)**

« ____ » _____ 2016 г.

Республика Татарстан

**ТЕОРЕТИЧЕСКИЙ ТУР
3 - 4 класс**

Впишите свой код/шифр		

Уважаемый участник Олимпиады!

При выполнении заданий теоретического тура Вам предстоит выполнить определенную работу, которую лучше организовать следующим образом:

- не спеша, внимательно прочитайте задание и входящие в него вопросы или ситуации;*
- определите, наиболее верный и полный ответ;*
- если вы отвечаете на теоретический вопрос, обдумайте и сформулируйте конкретный ответ только на поставленный вопрос;*
- если вы отвечаете на предложенную ситуацию, обдумайте порядок и последовательность действий по предложенной ситуации и впишите ответы в схему в той последовательности, которую вы определили, при этом ответ должен быть кратким, но содержать необходимую информацию;*
- если вы отвечаете на задание, связанное с заполнением таблицы, не старайтесь детализировать информацию, вписывайте только те сведения или данные, которые указаны в вопросе или верхних графах;*
- после выполнения всех предложенных заданий еще раз удостоверьтесь в правильности выбранных вами ответов и решений;*

Задание теоретического тура по данной предметной секции считается выполненным, если Вы вовремя сдаете его членам жюри.

Желаем вам успеха!

Оценка за Теоретический блок _____ баллов (максимальная 70 баллов)

Оценка за Блок тестирования _____ баллов (максимальная 30 баллов)

Оценка результата участника за ТЕОРЕТИЧЕСКИЙ ТУР _____ баллов

(максимально за теоретический тур 100 баллов)

ЗАДАНИЯ ТЕОРЕТИЧЕСКОГО ТУРА

Задание 1. В далеком прошлом люди думали, что Земля – не шар, а плоская «тарелка», у которой есть край. Краем земли люди считали линию «горизонта». Дополните определение.

Горизонт – _____

Оценочные баллы: максимально – 10 баллов;

Фактически набранные баллы за задание - _____ .

Подписи членов жюри _____

Задание 2. Нарисуйте знаки, которые используют ученые. Для записи погодных характеристик. Необходимо заполнить таблицу.

Облачность				
Название	Ясно	Малооблачно	Облачно	Пасмурно
Знак				





Осадки				
Название	Туман	Снег	Дождь	Морось
Знак				

Оценочные баллы: максимально – 10 баллов;

фактически набранные баллы за задание - _____ .

Подписи членов жюри _____

Задание 3. Заполните схему, указав значение знаков пожарной безопасности.

Оценочные баллы: максимально – 10 баллов;

фактически набранные баллы за задание - _____ .

Подписи членов жюри _____

Задание 4. Заполните памятку по пожарной безопасности, указав основные причины пожара и действие при пожаре.

 **ПАМЯТКА**
ПО ПОЖАРНОЙ БЕЗОПАСНОСТИ



ПРИЧИНЫ ПОЖАРА:

-
-
-



ДЕЙСТВИЯ ПРИ ПОЖАРЕ:

-
-
-
-
-



01



Оценочные баллы: максимально— 10 баллов;

фактически набранные баллы за задание - _____ .

Подписи членов жюри _____

Задание 5. Соедините стрелками название групп дорожных знаков с соответствующими им картинок.



Предупреждающие

Запрещающие

Предписывающие и
информационные знаки

Знаки сервиса

Регулирование движения

Оценочные баллы: максимально— 10 баллов;

фактически набранные баллы за задание - _____ .

Подписи членов жюри _____

Задание 6. Поставьте галочку «V» в левых квадратиках где представлены основные правила дорожной безопасности школьника.

☐

Все участники дорожного движения должны придерживаться правой стороны при движении: автомобилисты – на проезжей части, пешеходы – на тротуаре.

☐

Светофор имеет 3 вида сигнала: красный, зеленый и желтый (для пешеходов светофор имеет 2 вида: красный и зеленый). Красный свет означает «остановись, хода нет», желтый – «внимание», зеленый – «путь свободен».

☐

Кататься можно, по дороге и по тротуару .

☐

Дорогу переходить только бегом, на перегонки с машиной.

☐

Если нет светофора, переходить улицу следует только по пешеходному переходу (наземному или подземному).

☐

Переходя улицу, следует убедиться, что опасность в виде приближающегося транспорта отсутствует.

Автобус, троллейбус следует обходить сзади, трамвай – спереди.

Оценочные баллы: максимально– **10 баллов**;
фактически набранные баллы за задание - ____ .
Подписи членов жюри _____

Задание 7. Перечислите основной порядок оказания первой помощи при носовом кровотечении.

- _____
_____;
- _____
_____;
- _____
_____;
- _____
_____.

Оценочные баллы: максимально– **10 баллов**;
фактически набранные баллы за задание - ____ .
Подписи членов жюри _____

Баллы за задания Теоретического блока							
<i>№ задания</i>	1	2	3	4	5	6	7
<i>Кол-во баллов</i>							

Подписи председателя жюри _____
Подписи членов жюри _____

ЗАДАНИЯ ТЕОРЕТИЧЕСКОГО ТУРА (Блок тестирования)

№ п/п	Тестовые задания	Макс. балл	Кол-во набранных баллов
1	2	3	4
Определите один правильный ответ			
1.	<p>Выбери правильный ответ. При возникновении пожара в школе первоклассник должен:</p> <p>а) начать его тушить; б) бежать от него спасаться; в) строго следовать указаниям учителя.</p>	1	
2.	<p>Корни этого растения слаще яблока, листья укрепляют кости и зубы, сок очищает кровь, а пыльца и нектар цветов помогают росту человека.</p> <p>а) одуванчик б) подорожник в) крапива</p>	1	
3.	<p>Где должен остановиться пешеход, если посередине проезжей части его застал красный сигнал светофора?</p> <p>а) вернуться к тротуару, от которого начал переход проезжей части; б) закончить переход, дойдя до тротуара или обочины, на противоположной стороне дороги; в) должен остановиться на линии, разделяющей транспортные потоки противоположных направлений.</p>	1	
4.	<p>Вы встали на рассвете, и видите восходящее солнце, вы стали лицом к нему. Стало быть, в той стороне;</p> <p>а) север б) запад в) восток г) юг</p>	1	
5.	<p>Чем опасна утечка газа?</p> <p>а) Неприятным запахом и порчей мебели; б) Расходам газа; в) Отравлением и возможным возникновением взрыва и пожара; г) Ничем особенным - газ рассеется в воздухе.</p>	1	
6.	<p>Изображение большого участка Земли называется:</p> <p>а) схема б) план в) карта г) модель</p>	1	
7.	<p>Разрешается ли передвигаться пешеходам по обочинам?</p> <p>а) разрешается; б) не разрешается при переноске громоздких предметов; в) не разрешается; г) разрешается только при сопровождении лиц в инвалидных</p>	1	

	колясках.		
8.	Какой буквой обозначается север на компасах? а) S б) N в) W г) E	1	
9.	Представьте, что вы пошли запускать петарды, но нарушили правила, и на вас загорелась одежда, а рядом никого нет. Что нужно сделать? а) быстро бегать, тогда пламя погаснет само; б) бежать к взрослым, они помогут; в) падать и кататься по земле	1	
10	Листья какого растения можно употреблять в умеренных дозах? а) дурмана; б) лапчатки; в) липы; г) щавеля.	1	
11	Двигаясь по лесу, вы потеряли ориентировку. Как вы поступите: а) сразу же прекратите движение и попытаетесь восстановить ориентировку с помощью компаса или природных признаков; б) ускорите темп и продолжите движение; в) будете двигаться в обратном направлении.	1	
12	Какие средства могут понадобиться при ожоге: а) крем; б) холодная вода; в) йод или зеленка.	1	
13	Ученик на экзамене не может вспомнить, от чего возникает такое нарушение зрения, как «куриная слепота».... а) при недостатке в организме витамина А; б) при недостатке витамина С; в) при отравлении избытком витамина А; г) при помутнении хрусталика.	1	
14	Единый номер вызова экстренной службы. а) 103; б) 101; в) 102; г) 112.	1	
15	Для чего используют огнетушитель? а) для тушения пожара; б) для игр дома; в) для декорации в школе; г) для тушения небольшого возгорания.	1	
Определите все правильные ответы			
16	Из перечисленных предметов зачеркни те, игры с которыми могут привести к пожару. 1. Тетрис 2. Телевизор 3. Зажигалка 7. Конструктор 8. Бенгальские огни 9. Спички	7	

	4. Кубики 5. Свечка 6. Фломастер 10. Утюг 11. Мяч 12. Компьютер.		
17	Для оказания первой помощи при укусе пчелы необходимо: а) потереть место укуса землёй; б) удалить жало; в) наложить стерильную повязку; г) зафиксировать конечность; д) обработать ранку антисептиком и приложить холод.	2	
18	Во время игры дома твой младший братишка разбил нос. Выберите необходимые действия. а) усадить его, сильно запрокинув голову назад; б) усадить его, слегка наклонив вперед; в) зажать ноздри большим и указательным пальцами на 5–10 мин; г) приложить к поврежденному месту холодный компресс; д) приложить к поврежденному месту теплый компресс; е) успокоить братишку.	4	
19	Какие ядовитые растения и грибы можно встретить в лесу? а) вороний глаз, ландыш, волчье лыко; б) клюква, черника, малина; в) ложные опята, мухомор, бледная поганка.	2	
Количество баллов		max 30	

Оценочные баллы: максимально – 30 баллов;

фактически набранные баллы за Блок тестирования - ____ .

Подпись председателя жюри _____

Подписи членов жюри _____